

Проверочная работа по предмету «Окружающий мир»

Фамилия, имя _____

Школа _____ Класс 3 _____

Инструкция по выполнению заданий

На выполнение заданий проверочной работы по предмету «Окружающий мир» даётся 45 минут.

Ответы на задания запиши в указанном месте. Если ты хочешь изменить ответ, то зачеркни его и запиши рядом новый.

При выполнении работы не разрешается пользоваться учебником, рабочими тетрадями и другими справочными материалами.

При необходимости можно пользоваться черновиком. Записи в черновике проверяться и оцениваться не будут.

Советуем выполнять задания в том порядке, в котором они даны. Для экономии времени пропускай задание, которое не удаётся выполнить сразу, и переходи к следующему. Постарайся выполнить как можно больше заданий.

Желаем успеха!

1. Рассмотрите рисунок и запишите по одному примеру.

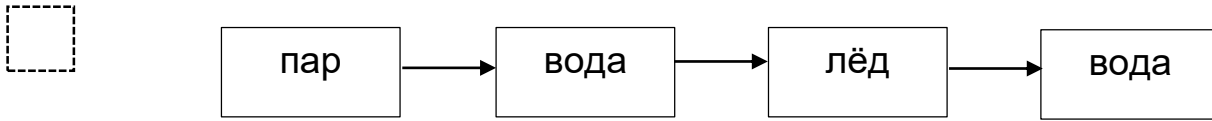
Объект живой природы _____

Объект неживой природы _____

Объект, сделанный руками человека _____



- 2 Как осуществить эти превращения воды? Поставь над стрелкой знак **+**, если вещество надо нагреть, и знак **—**, если надо охладить.



- 3 Прочитай текст. Выпиши из него по два названия деревьев и кустарников.
Растительный мир Рязанской области интересен и разнообразен. В лесах нашего региона растут ясень, черёмуха, клён, липа, калина, орешник, ландыш, кислица, медуница.

Деревья – _____
Кустарники – _____

- 4 1. Запиши название населенного пункта, в котором ты живёшь, и укажи, к какому типу населённых пунктов он относится.



Я живу в _____

2. Запиши название реки (озера), которая(ое) находится рядом с населённым пунктом, в котором ты живёшь.

Рядом протекает / расположено _____

3. Опиши кратко этот водоём. Напиши ответ в виде текста объёмом до трёх предложений.

- 5 1. Рассмотрите рисунки. Запишите только название животного, которое относится к земноводным.



2. Приведи ещё один пример земноводного _____

3. Прочитай текст. Подчеркни в нём названия животных, занесённых в Красную Книгу России.

Густые леса и бескрайние поля Рязанской области стали домом для множества животных. На территории региона можно встретить лису, кабана, выхухоль, ежа. В реках и озёрах обитают сом, лещ, карась, плотва. Наша область является местом обитания глухаря, скопы и тетерева.

- 6 Игорь решил выяснить, влияет ли освещённость на скорость прорастания семян. Он взял два стакана, положил в каждый несколько одинаковых семян огурца. Какие условия прорастания семян Игорю нужно создать в этом опыте? Подчеркни в каждой строке одно из выделенных слов.

	Температура семян в двух стаканах	одинаковая / различная
	Освещённость семян в двух стаканах	одинаковая / различная
	Влажность семян в двух стаканах	одинаковая / различная

- 7 Подбери к началу каждой фразы из первого столбца соответствующее продолжение из второго столбца.

Начало фразы

- А) Если дорожный знак с красной каймой имеет треугольную форму,
 Б) Если дорожный знак с красной каймой имеет круглую форму,

Продолжение фразы

- 1) то он относится к группе запрещающих знаков.
 2) то он относится к группе информационных знаков.
 3) то он относится к группе предупреждающих знаков.

Запиши в таблицу выбранные цифры под соответствующими буквами.

	Начало фразы	А	Б
	Продолжение фразы		